






Kleur het vakje
als je het kunt.



km hm-dam m-dm-cm-mm	omtrek = eromheen	inhoud $L = dm^3$	tabellen	oppervlakte m^2	kg hg-dag g-dg-cg-mg				
optellen onder elkaar	keer onder elkaar	breuken $\frac{1}{2} = \frac{2}{4} = \frac{4}{8}$	procenten %	kommagetallen geld rekenen	delen onder elkaar	af trekken onder elkaar			
$64 + 27$	(terug)tellen en schrijven tot 1000			$64 - 27$					
1	2	3	4	5	6	7	8	9	10
tafels tot 10									
 digitaal	kalender kennen en mee werken					analoog			
$64 + 20$	$64 + 8$	$64 - 8$	$64 - 20$						
(terug)tellen en schrijven tot 100									
plus tot 20					min tot 20				
plus tot 10					min tot 10				
splitsen tot 10									
10					20				



Laat de **DIAMANT** steeds meer **stralen**!

(terug)tellen en
schrijven tot 10 / 20